


Математика для дошкольников - тоже точная наука, но если это веселая математика с задачками на логику и смекалку, то серьезные задачки превращаются в игру. Мы постарались собрать для ваших детей много веселых и интересных задач, над которыми даже взрослым будет любопытно подумать. Попробуйте решить эти задачки вместе со своими детьми. Успехов!

Прочитай задачи в стихах, запиши их решения.

Карандаш один у Миши.  
Карандаш один у Гриши.  
Сколько же карандашей  
У обеих малышей?



--	--	--	--	--




На плетень взлетел петух,  
Повстречал еще там двух.  
Сколько стало петухов?  
У кого ответ готов?

--	--	--	--	--

На пасеке три медвежонка  
Играли в прятки у бочонка.  
Один в бочонок еле влез.  
А сколько убежало в лес?






--	--	--	--	--



Три пушистых кошечки  
Улеглись в лукошечко.  
Тут одна к ним прибежала.  
Сколько вместе кошек стало?

--	--	--	--	--

$3+4$	$10-2$	$6+3$	$8-1$	$5+3$	$6+1$	$4+5$
						

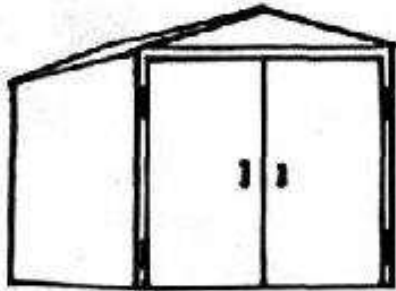


Как ты думаешь, можно ли решить эти задачи?

Объясни, почему нельзя.


Чего не хватает в каждой из задач?

- Ваня нашел два красных гриба и несколько белых. Сколько грибов нашел Ваня?



- Сколько всего машин стоит в гараже?

- У Наташи есть красные и синие шары. Сколько всего шаров у Наташи?



- У дома росли четыре березы и два дуба.

$$\boxed{5} \xrightarrow{+3} \boxed{\phantom{00}} \xrightarrow{-4} \boxed{\phantom{00}} \xrightarrow{+5} \boxed{\phantom{00}} \xrightarrow{+1} \boxed{\phantom{00}} \xrightarrow{-5} \boxed{\phantom{00}} \xrightarrow{+5} \boxed{10}$$




А сейчас подумай и реши необычные задачи.  
Объясни свой ответ.

1. У собачки Микки родились котята:  
три беленьких и один черненький.  
Сколько котят всего родилось?



2. У мамы есть кот Пушок,  
собака Дружок и дочка Даша.  
Сколько детей у мамы?



3. На столе лежат три груши  
и два яблока.  
Сколько овощей лежит на столе?



4. Прилетели два чижа,  
Два стрижа и два ужа.  
Сколько стало птиц всего  
Возле дома моего?

$3 + 1 + 2 =$

$5 - 1 + 2 =$

$5 + 2 - 4 =$

$2 + 1 + 1 =$

$4 - 2 + 3 =$

$7 - 3 + 1 =$

$4 + 2 + 3 =$

$6 - 1 - 3 =$

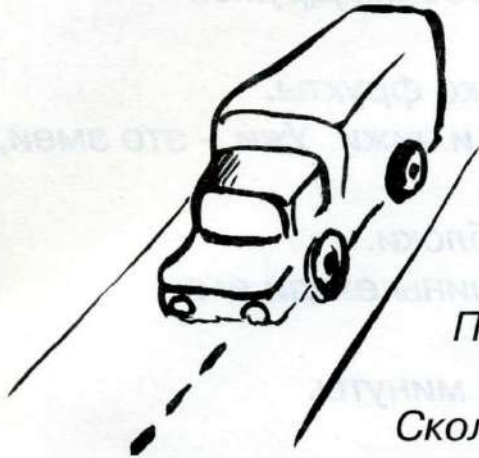
$3 + 2 - 4 =$

$1 + 4 + 2 =$

$3 + 3 - 2 =$



$8 - 4 + 2 =$

5. Стоит в поле дуб.  
 На дубе три ветки.  
 На каждой ветке по три яблока.  
 Сколько всего яблок?



6. Самосвал ехал в поселок.  
 По дороге он встретил три легковые  
 машины и один грузовик.  
 Сколько всего машин ехало в поселок?

7. Четыре яйца варятся четыре минуты.  
 Сколько минут варится одно яйцо?



8. У стола четыре угла.  
 Если один угол отпилить,  
 сколько углов останется?

$9 - 4 + 2 =$	$3 + 3 + 2 =$	$10 - 6 - 1 =$
$8 - 3 - 1 =$	$4 + 5 - 3 =$	$9 - 6 + 2 =$
$7 + 1 - 3 =$	$8 - 6 + 3 =$	$4 + 4 - 3 =$
$10 - 5 + 2 =$	$6 + 2 + 1 =$	$7 - 2 - 1 =$

## Задачи на смекалку

1. Над рекой летели птицы: голубь, щука, 2 синицы, 2 стрижа и 5 угрей. Сколько птиц? Ответ скорей! (5)
2. На тарелке лежали 3 морковки и 4 яблока. Сколько фруктов лежало на тарелке? (4 Морковь - не фрукт, а овощ)
3. Катя, Галя и Оля рисовали героев из деревни Простоквашино: Печкина, Шарика и Матроскина. Кто кого нарисовал, если Катя не рисовала Печкина и Шарика, а Галя не рисовала Печкина?
4. Алеша, Саша и Миша живут на разных этажах. Алеша живет не на самом верхнем этаже и не на самом нижнем. Саша живет не на среднем этаже и не на нижнем. На каком этаже живет каждый из мальчиков?
5. Толик намного легче, чем Сережа. Толик немного тяжелее, чем Валера. Кто легче всех? (Валера)
6. Сережа гостил у бабушки неделю и три дня. Сколько дней гостил Сережа?(10)
7. У Насти целый апельсин, 2 половинки и 4 четвертинки. Сколько у нее апельсинов? (3)
8. Яйцо варится 3 минуты. Сколько времени понадобится, чтобы сварить 2 яйца одновременно в одной кастрюле? (3 минуты)
9. На веревке завязали пять узлов. На сколько частей эти узлы разделили веревку?(6)
10. Мама купила детям три шарфа и шесть варежек. Сколько детей у мамы?(3)